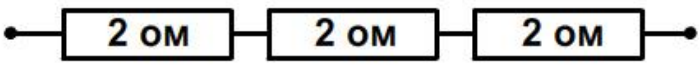
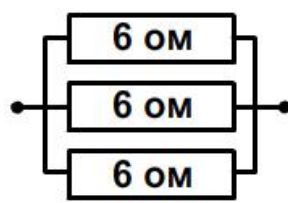
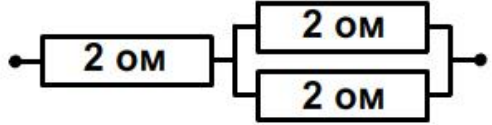
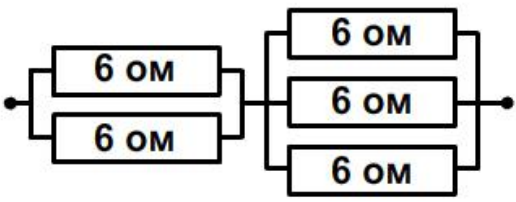
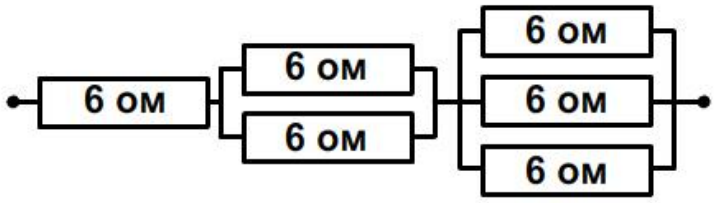

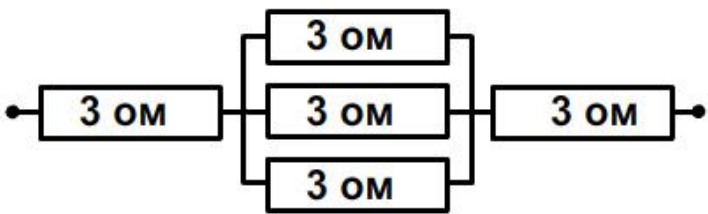
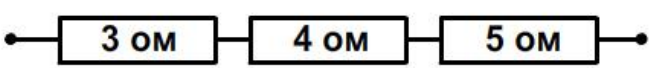


| | | |
|----|----------------------------------------------------|--------------------------------------------------------------------------------------|
| №1 | Определите полное сопротивление электрической цепи |  |
| a | a. 2 Ом | |
| b | b. 4 Ом | |
| c | c. 6 Ом | |
| d | d. Среди ответов нет верного | |
| №2 | Определите полное сопротивление электрической цепи |  |
| a | a. 2 Ом | |
| b | b. 4 Ом | |
| c | c. 6 Ом | |
| d | d. Среди ответов нет верного | |
| №3 | Определите полное сопротивление электрической цепи |  |
| a | a. 4 Ом | |
| b | b. 3 Ом | |
| c | c. 6 Ом | |
| d | d. Среди ответов нет верного | |
| №4 | Определите полное сопротивление электрической цепи |  |
| a | a. 10 Ом | |
| b | b. 4 Ом | |
| c | c. 5 Ом | |
| d | d. Среди ответов нет верного | |
| №5 | Определите полное сопротивление электрической цепи |  |
| a | a. 11 Ом | |
| b | b. 18 Ом | |
| c | c. 12 Ом | |
| d | d. Среди ответов нет верного | |
| №6 | Определите полное сопротивление электрической цепи |  |
| a | a. 6 Ом | |
| b | b. 12 Ом | |
| c | c. 3 Ом | |
| d | d. Среди ответов нет верного | |
| №7 | Определите полное сопротивление электрической цепи |  |
| a | a. 9 Ом | |
| b | b. 11 Ом | |
| c | c. 15 Ом | |
| d | d. Среди ответов нет верного | |
| №8 | Определите полное сопротивление электрической цепи |  |
| a | a. 10 Ом | |
| b | b. 12 Ом | |
| c | c. 14 Ом | |
| d | d. Среди ответов нет верного | |

| | | |
|-----|-----------------------------------------------------------|--|
| №9 | Определите полное сопротивление электрической цепи | |
| a | a. 12 Ом | |
| b | b. 6 Ом | |
| c | c. 2 Ом | |
| d | d. Среди ответов нет верного | |
| №10 | Определите полное сопротивление электрической цепи | |
| a | a. 2 Ом | |
| b | b. 4 Ом | |
| c | c. 6 Ом | |
| d | d. Среди ответов нет верного | |
| №11 | Определите полное сопротивление электрической цепи | |
| a | a. 2 Ом | |
| b | b. 3 Ом | |
| c | c. 6 Ом | |
| d | d. Среди ответов нет верного | |
| №12 | Определите полное сопротивление электрической цепи | |
| a | a. 2 Ом | |
| b | b. 4 Ом | |
| c | c. 6 Ом | |
| d | d. Среди ответов нет верного | |
| №13 | Определите полное сопротивление электрической цепи | |
| a | a. 2 Ом | |
| b | b. 4 Ом | |
| c | c. 6 Ом | |
| d | d. Среди ответов нет верного | |
| №14 | Определите полное сопротивление электрической цепи | |
| a | a. 9 Ом | |
| b | b. 7 Ом | |
| c | c. 15 Ом | |
| d | d. Среди ответов нет верного | |
| №15 | Определите полное сопротивление электрической цепи | |
| a | a. 2 Ом | |
| b | b. 4 Ом | |
| c | c. 6 Ом | |
| d | d. Среди ответов нет верного | |
| №16 | Определите полное сопротивление электрической цепи | |
| a | a. 2 Ом | |
| b | b. 3 Ом | |
| c | c. 6 Ом | |
| d | d. Среди ответов нет верного | |
| №17 | Определите полное сопротивление электрической цепи | |
| a | a. 10 Ом | |
| b | b. 11 Ом | |
| c | c. 14 Ом | |
| d | d. Среди ответов нет верного | |