
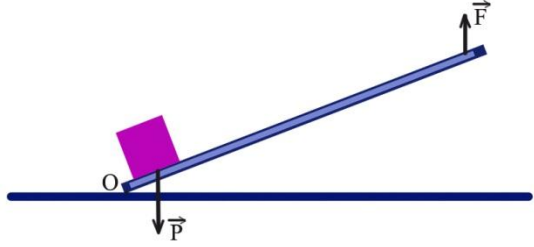
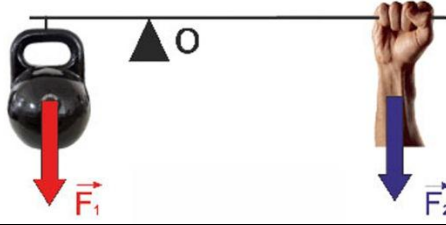

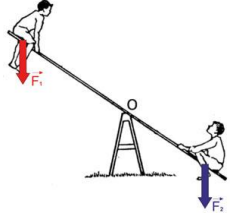


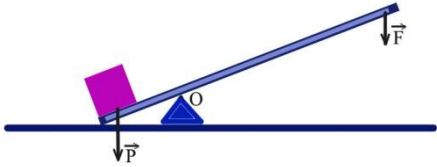



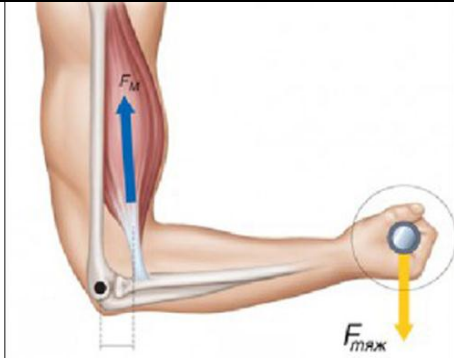
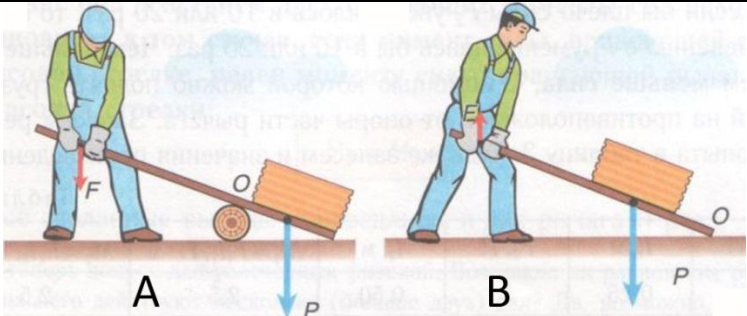


Оценка	Баллов
	/13

№1	Рычаг какого рода изображен на рисунке?	
a	а. Рычаг 1-го рода	
b	б. Рычаг 2-го рода	
c	в. Это не рычаг	
d	г. Среди ответов нет верного	
№2	Рычаг какого рода изображен на рисунке?	
a	а. Рычаг 1-го рода	
b	б. Рычаг 2-го рода	
c	в. Это не рычаг	
d	г. Среди ответов нет верного	
№3	Рычаг какого рода изображен на рисунке?	
a	а. Рычаг 1-го рода	
b	б. Рычаг 2-го рода	
c	в. Это не рычаг	
d	г. Среди ответов нет верного	
№4	Рычаг какого рода изображен на рисунке?	
a	а. Рычаг 1-го рода	
b	б. Рычаг 2-го рода	
c	в. Это не рычаг	
d	г. Среди ответов нет верного	
№5	Рычаг какого рода изображен на рисунке?	
a	а. Рычаг 1-го рода	
b	б. Рычаг 2-го рода	
c	в. Это не рычаг	
d	г. Среди ответов нет верного	
№6	Рычаг какого рода изображен на рисунке?	
a	а. Рычаг 1-го рода	
b	б. Рычаг 2-го рода	
c	в. Это не рычаг	
d	г. Среди ответов нет верного	
№7	Какого рода рычаги представлены на рисунке?	
a	а. А - рычаг 1-го рода	
b	б. В - рычаг 2-го рода	
c	в. В - рычаг 1-го рода	
d	г. А - рычаг 2-го рода	

№8	Рычаг какого рода изображен на рисунке?	
a	a. Рычаг 1-го рода	
b	b. Рычаг 2-го рода	
c	c. Это не рычаг	
d	d. Среди ответов нет верного	
№9	Рычаг какого рода изображен на рисунке?	
a	a. Рычаг 1-го рода	
b	b. Рычаг 2-го рода	
c	c. Это не рычаг	
d	d. Среди ответов нет верного	
№10	Рычаг какого рода изображен на рисунке?	
a	a. Рычаг 1-го рода	
b	b. Рычаг 2-го рода	
c	c. Это не рычаг	
d	d. Среди ответов нет верного	
№11	Рычаг какого рода изображен на рисунке?	
a	a. Рычаг 1-го рода	
b	b. Рычаг 2-го рода	
c	c. Это не рычаг	
d	d. Среди ответов нет верного	
№12	Рычаг какого рода изображен на рисунке?	
a	a. Рычаг 1-го рода	
b	b. Рычаг 2-го рода	
c	c. Это не рычаг	
d	d. Среди ответов нет верного	
№13	Какого рода рычаги представлены на рисунке?	
a	a. А - рычаг 1-го рода	
b	b. В - рычаг 2-го рода	
c	c. В - рычаг 1-го рода	
d	d. А - рычаг 2-го рода	